



# **Aula de Revisão de Geografia**

Prova Periódica 2º trimestre

**PROF. GABRIEL**

# Módulo 11. POPULAÇÃO

- ▶ Estudo da População
  - Como agrupar as populações.
  - Distribuição da população mundial
  - A população dos países.



O estudo da POPULAÇÃO é identificado por alguns aspectos mais importantes:

- O espaço que ela ocupa.
- Suas características.
- O impacto da população.

**Assim, como agrupar as populações??**

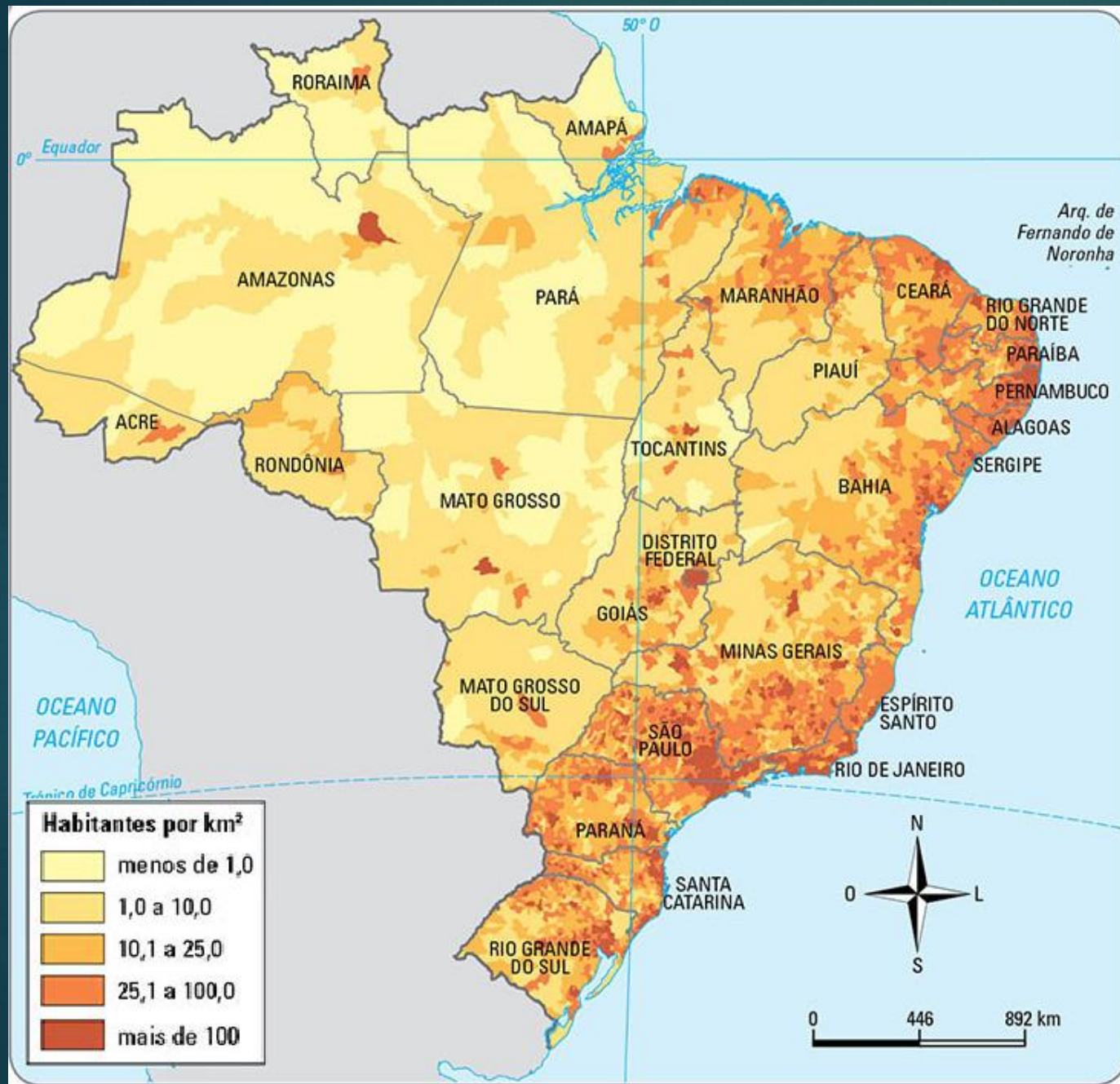
Faixa etária: população de crianças de Manaus, população jovens do colégio, população idosa de Marília.

Local de Moradia: população urbana do Brasil, população ribeirinha de Belém.

Gênero: população de mulheres ou de homens.

Religião: população católica da Itália, população espírita de São Paulo

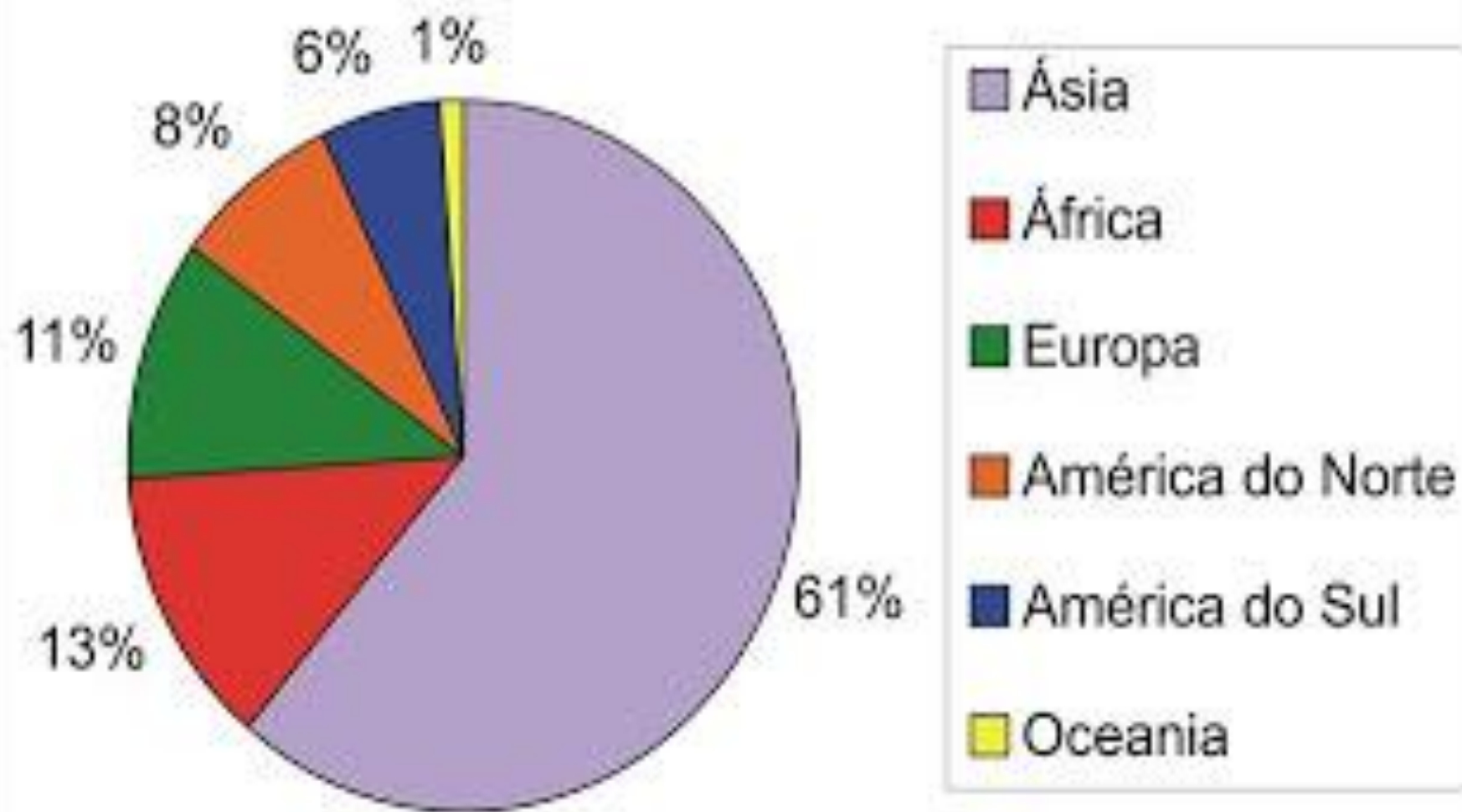




**Distribuição da População Brasileira.**

**Maior concentração na faixa litorânea, especialmente nas regiões Sul e Sudeste.**

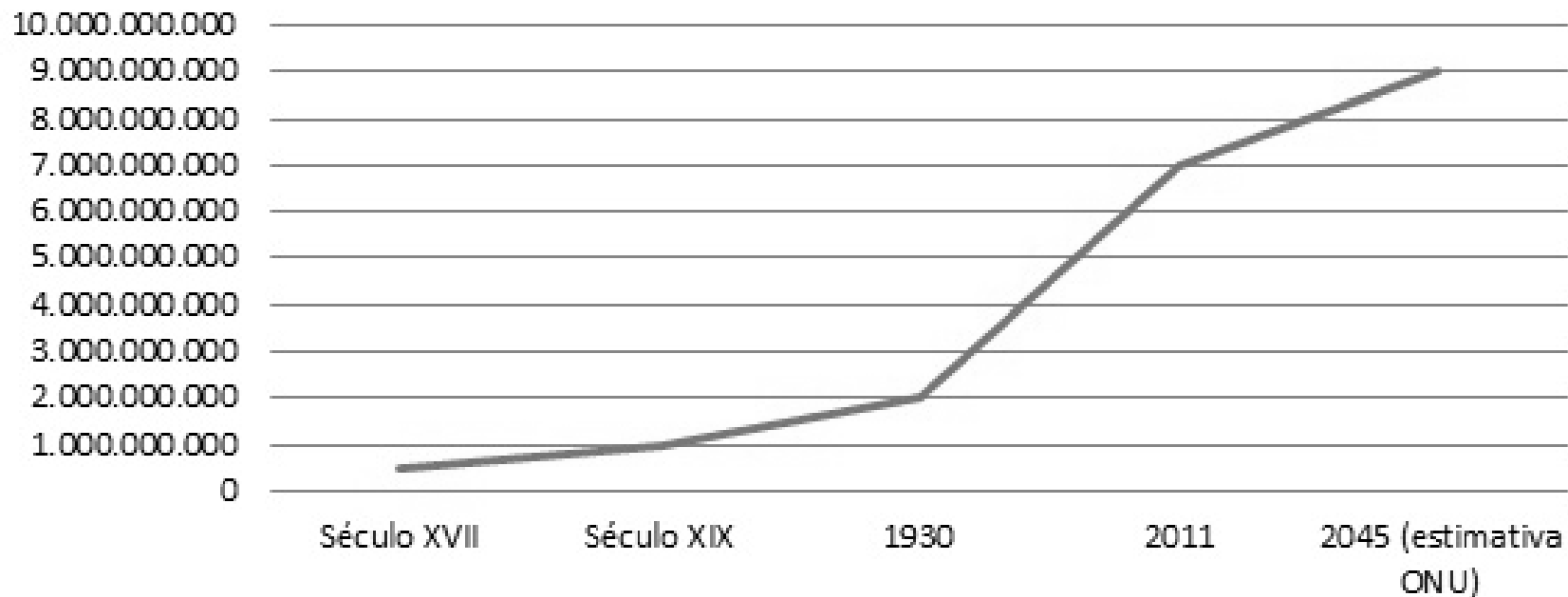
## Percentual de população por continente



# Módulo 12. O Crescimento da População

## CRESCIMENTO DA POPULAÇÃO MUNDIAL

Evolução da população mundial (século XVII - século XXI)



O QUE É O  
CRESCIMENTO  
VEGETATIVO?  
  
ONDE HÁ  
MAIOR  
CRESCIMENTO  
VEGETATIVO?

# OS MOVIMENTOS MIGRATÓRIOS

**EMIGRANTES** - POPULAÇÃO QUE DEIXA UM LUGAR DE ORIGEM, E SE DIRIGE PARA OUTRO PAÍS.

**IMIGRANTES** - POPULAÇÃO QUE CHEGA EM UM PAÍS, OU SEJA, PARA O LUGAR ONDE ELA SE DESLOCA.

**POR QUE OS IMIGRANTES SAEM DE SEUS PAÍSES?**



# Módulo 13. TER filhos

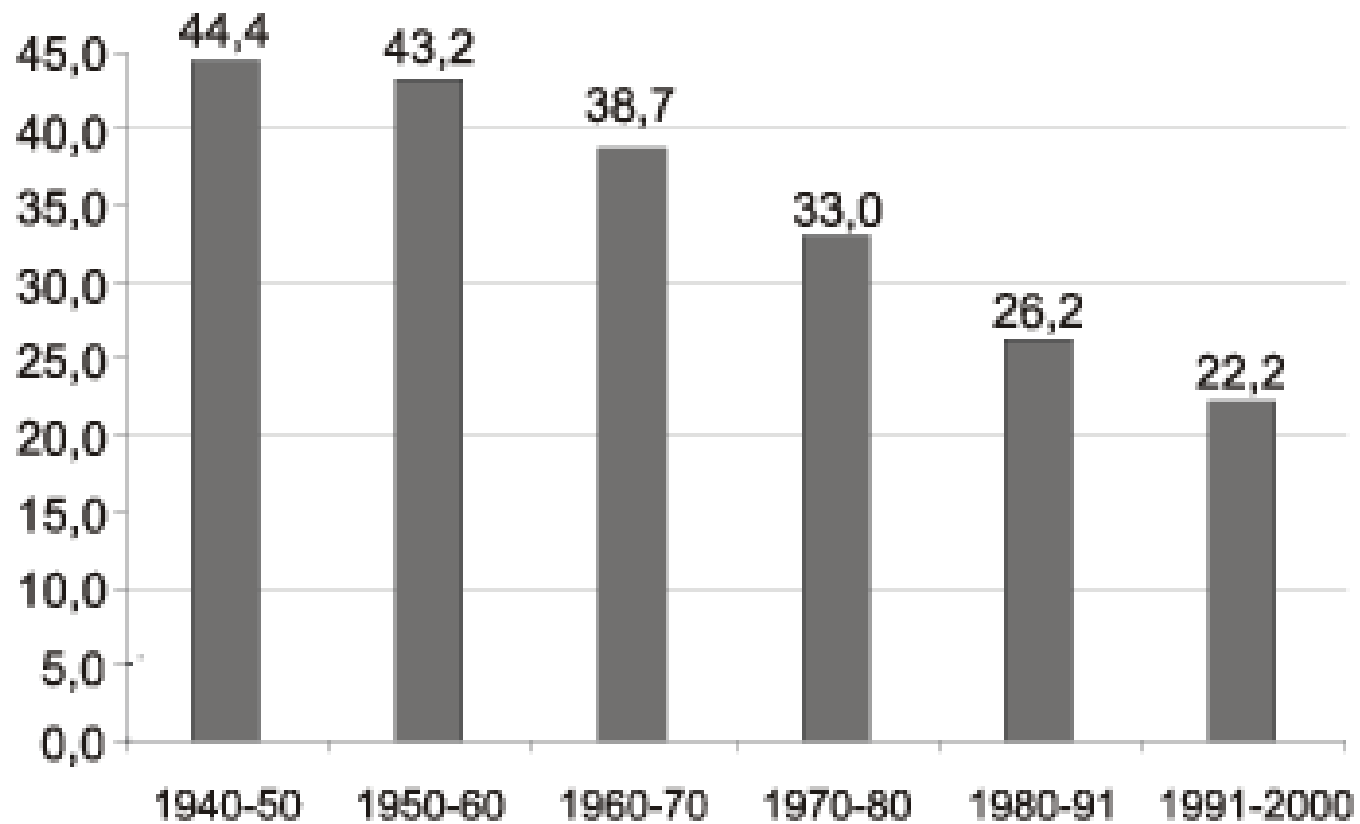
## POR QUE A NATALIDADE ESTÁ CAINDO?

- ACESSO A INFORMAÇÃO E MÉTODOS CONTRACEPTIVOS.
- URBANIZAÇÃO
- CUSTO DE VIDA MAIS CARO.
- MULHERES FORAM PARA O MERCADO DE TRABALHO.



## GRÁFICO 1

Taxas de Natalidade  
Brasil – 1940-2000

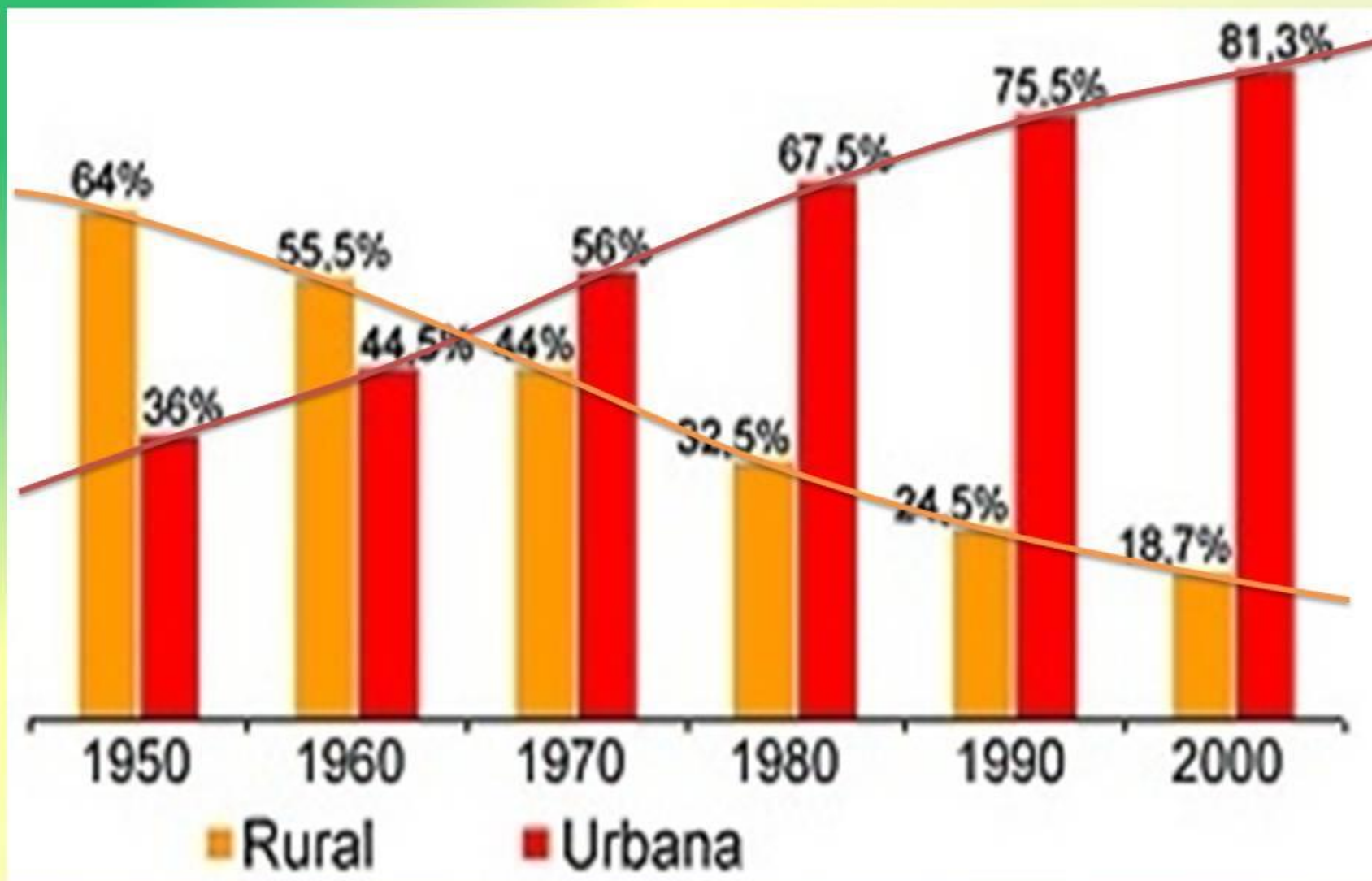


Fonte: Fundação IBGE.

No Brasil a  
**NATALIDADE**  
também  
caiu...e  
rápido!!!

p. 191 (causas)

# A URBANIZAÇÃO BRASILEIRA



## ÉRAMOS SEIS, SEREMOS TRÊS

A fecundidade da brasileira despencou - em total de filhos por mulher

Em 1960, a brasileira tinha em média 6 filhos

Em 1980, passou para 4 crianças

Em 2000, eram 2 filhos

Em 2020, a média será 1,5



## Crescimento Populacional



Fonte: <http://www.geografiaparatodos.com.br>